



DEPARTAMENTO DE ENSINO
SETOR TÉCNICO PEDAGÓGICO
Coordenação do Fundamental I – Anos Iniciais
Atividades para o 4º Ano – Língua Portuguesa



(EF35LP03) Identificar a ideia central do texto, demonstrando compreensão global.
(EF35LP04) Inferir informações implícitas nos textos lidos.
(EF03LP21) Produzir anúncios publicitários, textos de campanhas de conscientização destinados ao público infantil, observando os recursos de persuasão utilizados nos textos publicitários e de propaganda (cores, imagens, slogan, escolha de palavras, jogo de palavras, tamanho e tipo de letras, diagramação).
(EF04LP02) Ler e escrever, corretamente, palavras com sílabas VV e CVV em casos nos quais a combinação VV (ditongo) é reduzida na língua oral (ai, ei, ou)

Questão 01 – leitura e interpretação

Serafina e Virgulina



As formigas iam velozes, em fila, para o novo formigueiro.

Serafina, a formiga mais velha dizia:

_ Não sei por que foi acontecer isso conosco! Aquele formigueiro embaixo da figueira era muito bom! Mas, infelizmente, ele ficou alagado.

_ Calma, Serafina! O novo formigueiro perto da plantação de couve é bem melhor. Ele não tem as paredes mofadas, fica até mais perto do seu trabalho e você não precisa sair afobada – disse Virgulina.

_ Isso é verdade! Posso até, de vez em quando, passar na casa da minhoca Filoca e comer um pouco de feijão com farofa.

Graça Batituci


Agora, de acordo com a leitura do texto, responda:

A) Qual o nome da formiga mais velha?

B) Como iam as Formiga ao novo formigueiro?

C) Qual o nome da minhoca?

D) Onde fica o novo formigueiro?



E) Qual o nome da outra da outra formiga?

F) Quais são as características das paredes do formigueiro antigo?

Trabalhando com a Gramática

Questão 02 - Enumere os parágrafos do texto:

a) O texto tem parágrafos.

b) Retire do o que se pede:

Um substantivo próprio:

um substantivo derivado:

Uma palavra diminutivo e um aumentativo:

Um adjetivo:



Questão 03 - Na frase do texto “Aquele formigueiro embaixo da figueira era muito bom!”: há muitas palavras com os “encontros vocálicos”, vamos lembrar?!

Encontro Vocálico: é o encontro de duas ou mais vogais juntas em uma mesma palavra.

Ditongo: é o encontro de duas vogais pronunciadas em uma mesma sílaba.

Hiato: é o encontro de duas vogais pronunciadas em sílabas separadas.

Tritongo: é o encontro de três vogais pronunciadas em uma mesma sílaba



a) Enumere os encontros vocálicos aos lugares corretos:

(1) Ditongo () Aquele.

(2) Tritongo () Dizia.

(3) Hiato () Formigueiro

Questão 04 - Leia a poesia e depois escreva as palavras que possuem encontro vocálico

Existiu ou não existiu

Meu dente foi ficando mole... caiu.

O passarinho da gaiola... fugiu.

A mãe se arrumou toda... saiu.

Parecia que ia chorar, mas riu.

Dinossauro para impossível, mas... existiu.

Laura Góes

Livro de leitura (Aprender brincando)

Quinteto Editorial, São Paulo

b) Destaque os encontros vocálicos e classifique:

(1) para ditongo (2) para hiato (3) para tritongo

() meu	() caiu	() gaiola	() fugiu
() mãe	() arrumou	() saiu	() parecia
() que	() ia	() riu	() dinossauro
() não	() existiu	() foi	() Quinteto

Questão 05 – As palavras são formadas por sílabas e são classificadas conforme a sua composição. Agora vamos completar o quadro:

Só lembrando

1 sílaba = **monossílaba** 3 sílabas = **trissílaba**
2 sílabas = **dissílaba** 4 sílabas ou mais = **polissílaba**

PALAVRA	DIVISÃO SILÁBICA	NÚMERO DE SÍLABAS	CLASSIFICAÇÃO
Formigueiro	for-mi-guei-ro	04	polissílaba
Bom			
Couve			
Farofa			
Figueira			
Fila			
Filoca			
Serafina			
Velha			
Virgulina			

Questão 05 – Leia os textos abaixo:

Texto I

NÃO PEGUE CORONA NESTE VIRUS

ATENÇÃO AMIGUINHOS
UMA COISA VOU FALAR
ANTEBRAÇO NA BOQUINHA
SE VOCE VAI ESPIRRAR!

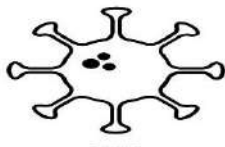


ALIMENTOS BEM COZIDOS
PARA O VIRUS NÃO PEGAR
LAVE SEMPRE AS SUAS MÃOS
PARA NÃO SE CONTAMINAR!

O CORONA TA CHEGANDO
NÃO PODEMOS VACILAR
DE CORONA NESTE VIRUS
EU NÃO QUERO VIAJAR!



Texto II



**O QUE É O
CORONAVÍRUS?**

Coronavírus é uma família de vírus que causam infecções respiratórias. O novo agente do coronavírus foi descoberto em 31/12/19 após casos registrados na China. Provoca a doença chamada de coronavírus (COVID-19).

Questão 06 – MARQUE A ALTERNATIVA QUE MOSTRA A FUNÇÃO DO TEXTO I:

- a) UM ARTIGO DE OPINIÃO.
- b) UMA PROPAGANDA.
- c) UMA FÁBULA
- d) UM POEMA.

Questão 07 – Releia o texto e responda as questões abaixo:

- a) Qual o principal tema abordado?

- b) De acordo com o texto II, o que é Corona Vírus?

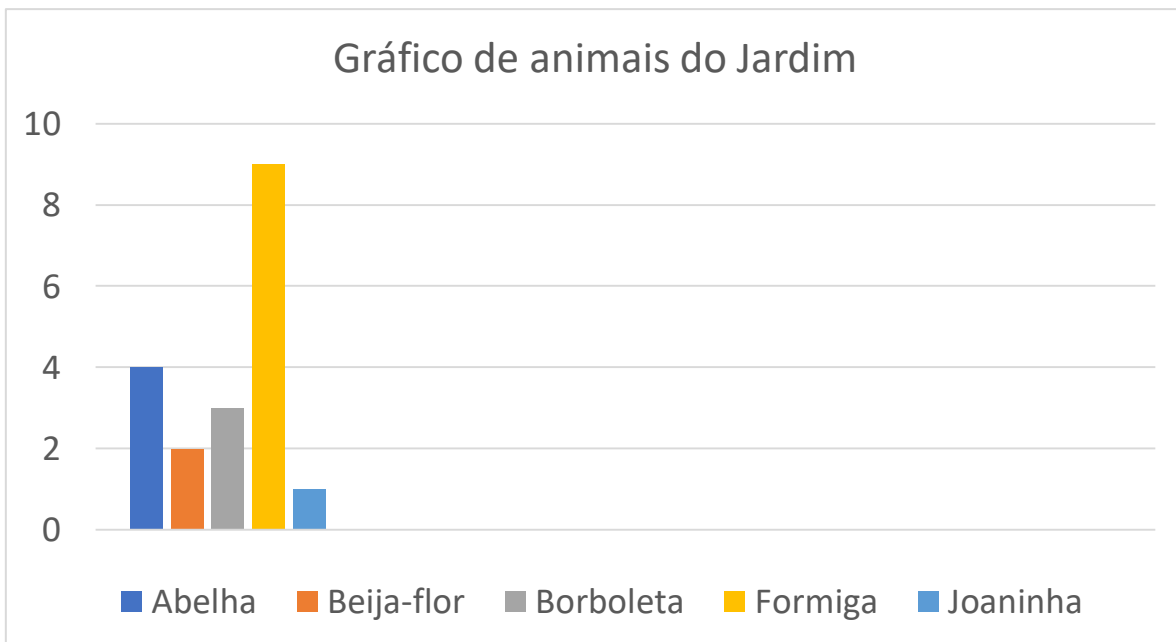
- c) O que devemos fazer para não contrair o Corona Vírus?

DEPARTAMENTO DE ENSINO
SETOR TÉCNICO PEDAGÓGICO
Coordenação do Fundamental I – Anos Iniciais
Atividades para o 4º Ano – Matemática



(EF04MA27) Analisar dados apresentados em tabelas simples ou de dupla entrada e em gráficos de colunas ou pictóricos, com base em informações das diferentes áreas do conhecimento, e produzir texto com a síntese de sua análise.
(EF04MA06) Resolver e elaborar problemas envolvendo diferentes significados da multiplicação (adição de parcelas iguais, organização retangular e proporcionalidade), utilizando estratégias diversas, como cálculo por estimativa, cálculo mental e algoritmos.
(EF04MA25) Resolver e elaborar problemas que envolvam situações de compra e venda e formas de pagamento, utilizando termos como troco e desconto, enfatizando o consumo ético, consciente e responsável.
(EF04MA11) Identificar regularidades em sequências numéricas compostas por múltiplos de um número natural.

Questão 01- Rafaela fará um passeio pelo jardim, veja no gráfico abaixo os animais que ela pode ver durante o passeio e responda:



a. Que animal apareceu em maior quantidade?

b. Que animal apareceu em menor quantidade?

c. Há mais abelhas ou borboletas?

d. Há menos formigas ou joaninhas?

e. Qual a diferença entre o menor número de animais do jardim, para o maior?

Questão 02 - Observe o cardápio de um restaurante e responda as perguntas abaixo:

TABELA DE PREÇOS			
Comida		Bebida	
Almoço	R\$ 12,00	Refrigerante 600 ml	R\$ 6,00
Marmitex	R\$ 10,00	Água	R\$ 2,00
Executivo	R\$ 15,00	suco	R\$ 4,00
Self service por kg	R\$ 19,00	Refrigerante lata	R\$ 4,50

A) Qual o almoço mais caro?

B) Qual a opção de almoço mais barato?

C) Quanto vai custar se comprar 3 Marmitex?

D) Quanto vamos ter de troco se comprarmos 01 Marmitex, com uma cédula de R\$ 50,00?

E) Represente as possibilidades que podemos comprar as bebidas com R\$10,00:

F) Quanto vai custar se comprar 01 Executivo com 02 refrigerantes em lata?

Questão 03 – Leia com atenção e resolva as questões:

a) Paulo, José e Joana foram ao shopping. Observe os preços dos brinquedos que mais gostaram:



R\$45,00



R\$40,00



R\$12,00

b) Paulo tem R\$ 52,00. Pode comprar dois desses brinquedos. Quais são?

- () O carrinho e a bola.
- () A boneca e a bola.
- () O carrinho e a boneca

c) Joana tem uma nota de R\$ 50,00, uma nota de R\$20,00 e uma nota de R\$ 10,00. Quanto Joana tem?

- () R\$ 70,00
- () R\$ 60,00
- () R\$ 80,00

d) Joana quer comprar 2 bonecas com o dinheiro que tem. Quanto receberá de troco se comprar as duas bonecas?

- () R\$ 10,00
- () R\$ 20,00
- () não terá troco a receber.

e) José tinha R\$ 10,00. Ele queria comprar uma bola para dar de presente a sua irmã. Quanto falta para poder comprar a bola?

- () R\$ 1,00
- () R\$ 2,00
- () R\$ 3,00

f) Se comprarmos os três brinquedos com uma nota de R\$ 100,00. Quanto teremos de troco?

- () R\$ 6,00
- () R\$ 18,00
- () R\$ 3,00

Questão 04 – Quem vem antes e depois?

	125	
	269	
	376	
	451	
	612	
	755	



	12	
	290	
	333	
	492	
	674	
	798	

Questão 05 – Complete o quadro com os números que estão faltando, mas descubra o segredo:

125				145
	155			
		185		
				220

Questão 06 - Escreva em algarismo os numeros:

- Cento e oitenta _____.
- Cento e noventa e dois _____.
- Quatrocentos e cinco _____.
- Cento e cinquenta e nove _____.
- Duzentos _____.

Questão 07 – Resolva os problemas:

O pai de Carlos e Rodrigo tem R\$ 160,00 e precisa comprar duas mochilas para seus filhos. Os meninos não querem mochilas iguais. Quais as duas mochilas que eles podem comprar?

A- R\$ 93,00	B- R\$ 112,00	C- R\$ 87,00	D- R\$ 83,00